



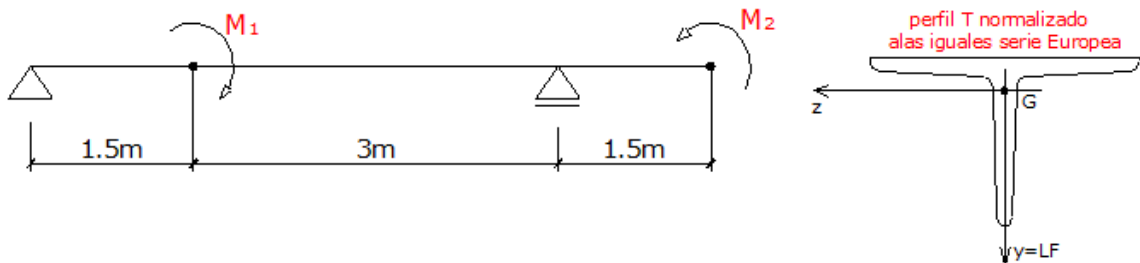
TRABAJO PRACTICO N° 5:
"SOLICITACIÓN POR FLEXIÓN EN RÉGIMEN ELÁSTICO - SF"

EJERCICIOS OBLIGATORIOS:

- Ejercicio N°1
- Ejercicio N°2
- Ejercicio N°3
- Ejercicio N°5
- Ejercicio N°9
- Ejercicio N°10

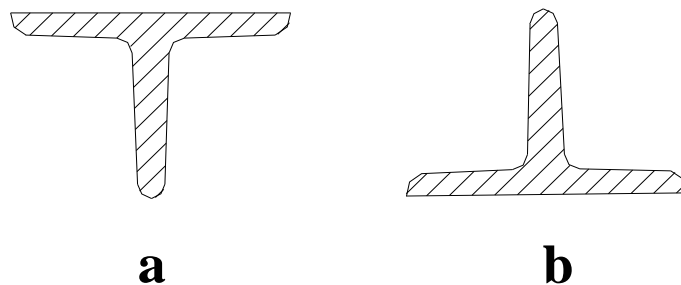
EJERCICIO N° 1: Dimensionar la sección más comprometida de la estructura propuesta adoptando un perfil T normalizado. Trazar los diagramas de características. Trazar el diagrama de tensiones.

DATOS: $M_1 = 500 \text{ daN.m}$ $M_2 = 600 \text{ daN.m}$ $\sigma_{adm} = 1400 \text{ daN/cm}^2$



EJERCICIO N° 2: Ídem 1, pero adoptando la posición más racional a o b, para las condiciones de resistencia que se indican.

DATOS: $\sigma_{adm} \text{ compresión} = 1400 \text{ daN/cm}^2$ $\sigma_{adm} \text{ tracción} = 700 \text{ daN/cm}^2$



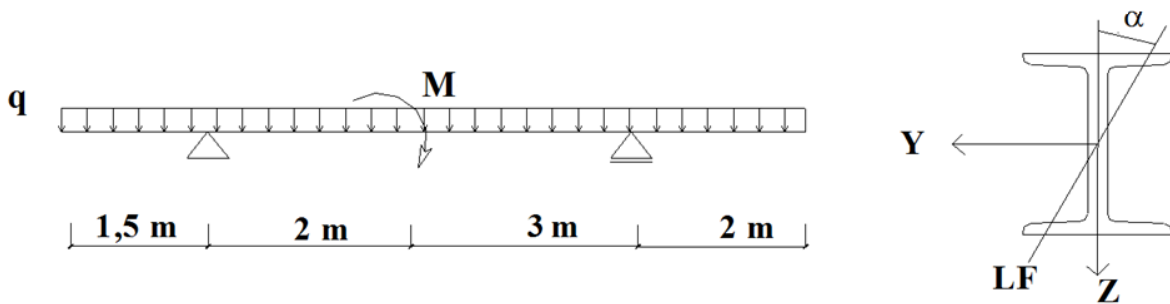
05.05.01	TP N° 05: Solicitación por Flexión en Régimen Elástico – SF	0	2018	2°	Todos	Pág.: 1
TP N°	CARPETA – SUB-CARPETA - DENOMINACION	REV.	AÑO	CUATRIM.	CURSOS	de: 11



ESTABILIDAD II "A" – 64.02 (EIIA-64.02) y ESTABILIDAD II – 84.03 (EII-84.03)

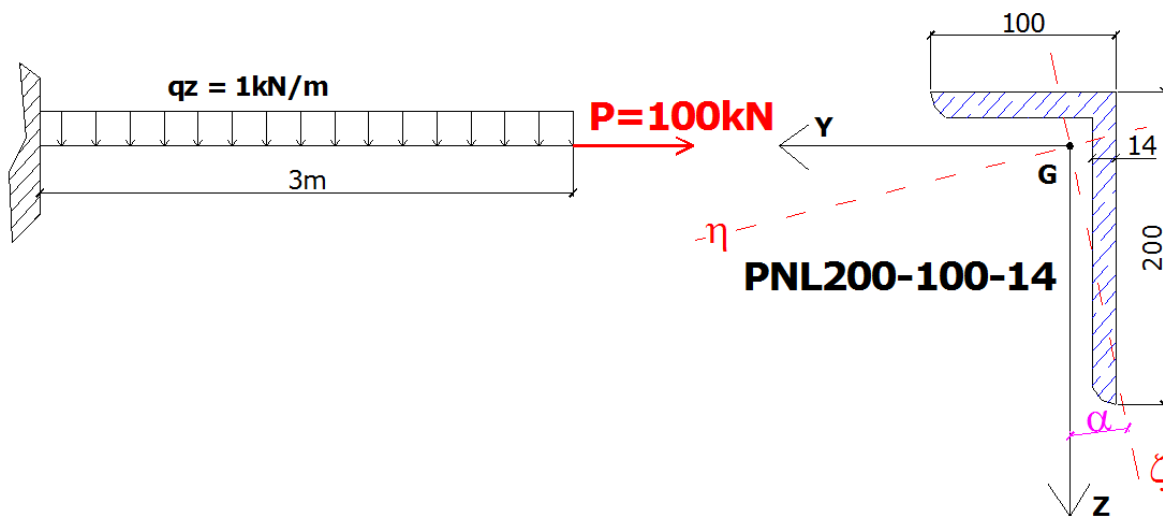
EJERCICIO N° 3: Dado el sistema de la figura se pide dimensionar la sección más comprometida de la sección, adoptando un perfil "I" de modo que la Línea de Fuerza forme un ángulo α con el eje de simetría del perfil. Trazar los diagramas de características.

DATOS: $\alpha = 30^\circ$ $q = 10 \text{ kN/m}$ $M = 5 \text{ Kn.m}$ $\sigma_{adm} = 1400 \text{ daN/cm}^2$



EJERCICIO N° 4: Para la barra cuyo esquema se indica en la figura, se pide:

- Verificar la sección L de alas desiguales del sistema dato para la condición de resistencia $\sigma_{m\acute{a}x} \leq \sigma_{adm} = 140 \text{ MPa}$. Trazar los diagramas de características.
- Trazar el diagrama de tensiones normales parciales y totales de la sección estudiada.
- Determinar analíticamente el centro de presión, la ecuación del eje neutro y graficar sus posiciones.
- Determinar el núcleo central.

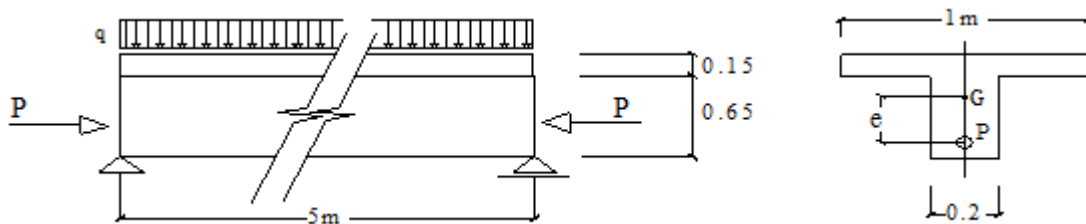


05.05.01	TP N° 05: Solicitación por Flexión en Régimen Elástico – SF	0	2018	2°	Todos	Pág.: 2
TP N°	CARPETA – SUB-CARPETA - DENOMINACION	REV.	AÑO	CUATRIM.	CURSOS	de: 11



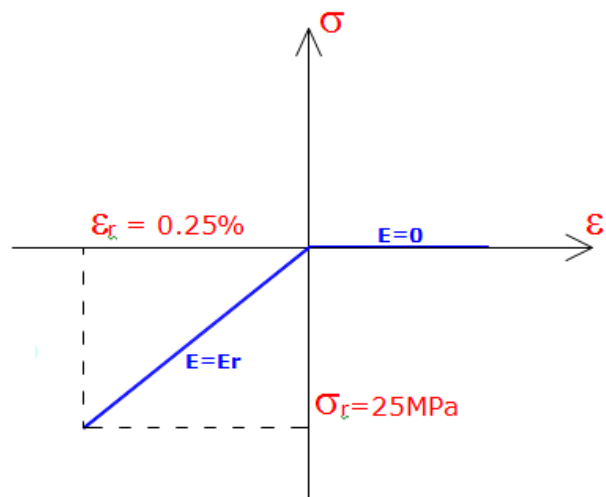
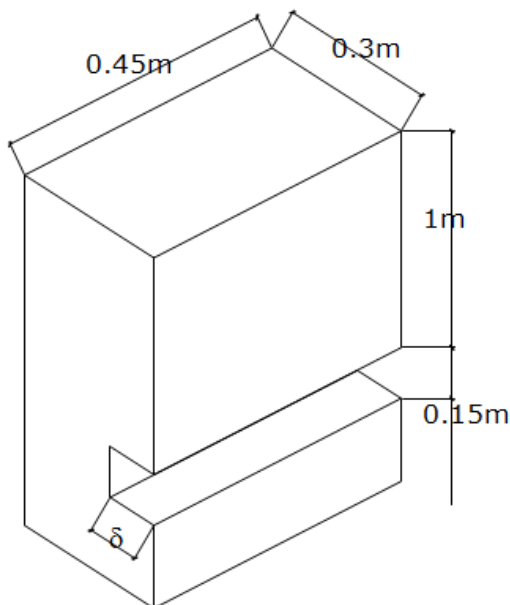
EJERCICIO N° 5: Para la viga de la figura se requiere:

- Máxima excentricidad de la carga P para que resulten tensiones normales al eje de la barra de un único signo, si $P=10\text{ KN}$ y $q=0$
- Ubicada $P=10\text{ KN}$ con la excentricidad calculada en [a], hallar "q" máxima para igual requisito de tensiones.
- Determinar el núcleo central de la sección.



EJERCICIO N° 6: Para el pilar de mampostería indicado, hallar la máxima caladura que puede practicarse (δ máxima).
 NOTA IMPORTANTE: Resolver este ejercicio con teoría de flexión para un material con 2 módulos diferentes. ($E_{\text{compr}} = E_r$; $E_{\text{tracc}} = 0$).

DATOS: $\gamma = 20\text{ kN/m}^3$

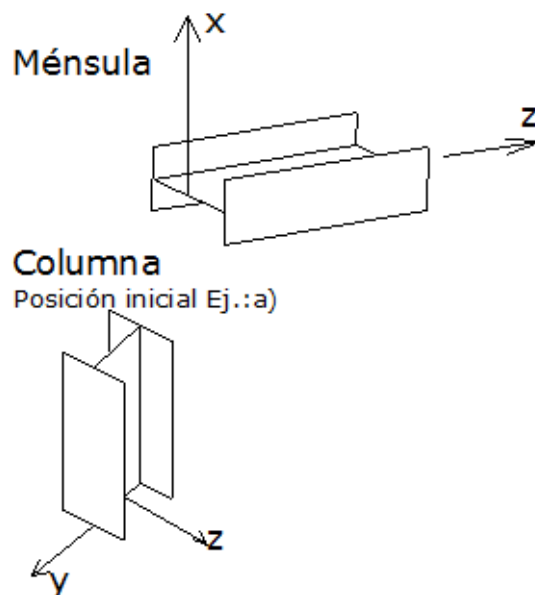
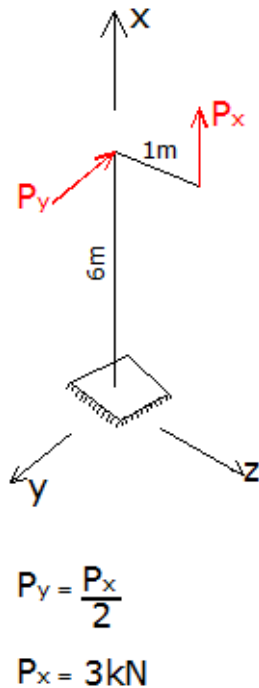


05.05.01	TP N° 05: Solicitación por Flexión en Régimen Elástico – SF	0	2018	2°	Todos	Pág.: 3
TP N°	CARPETA – SUB-CARPETA - DENOMINACION	REV.	AÑO	CUATRIM.	CURSOS	de: 11



EJERCICIO N° 7: Dada la figura indicada a continuación se solicita:

- Dimensionar la estructura de barras adoptando un perfil laminado IPN, debiéndose asegurar que en todos los puntos de las secciones normales al eje de la barra la tensión normal sea inferior a 160 Mpa. Adoptar el mismo perfil para la ménsula y la columna, ubicado como se indica.
- Para la sección del empotramiento, indicar y graficar la posición del centro de presión C.P. y la ecuación del eje neutro E.N., al igual que el diagrama final y los diagramas parciales de tensiones normales, en valor y signo σ_x .
- Justificar para la columna, cuál sería la posición que al orientar da el perfil más económico.



05.05.01	TP N° 05: Sollicitación por Flexión en Régimen Elástico – SF	0	2018	2°	Todos	Pág.: 4
TP N°	CARPETA – SUB-CARPETA - DENOMINACION	REV.	AÑO	CUATRIM.	CURSOS	de: 11




EJERCICIO N° 8: Calcular el espesor que debe tener una presa de hormigón armado de 2 m de altura en los dos esquemas siguientes, comparar resultados en una tabla.

- a. Para que no aparezcan tensiones de tracción ni en el suelo, ni en el Hormigón.- Determinar la seguridad al vuelco. **NOTA IMPORTANTE:** Resolver este ejercicio con teoría de flexión para 1 material y con 2 módulos diferentes. ($E_{compr} = E_r$; $E_{tracc} = 0$).
- b. Para lograr una seguridad mínima al vuelco $\gamma_{vuelco} = M_E/M_V \geq 1.5$

NOTA:

1. trazado de los diagramas de características completos.
2. trazado de los diagramas de tensiones normales en la sección estudiada.

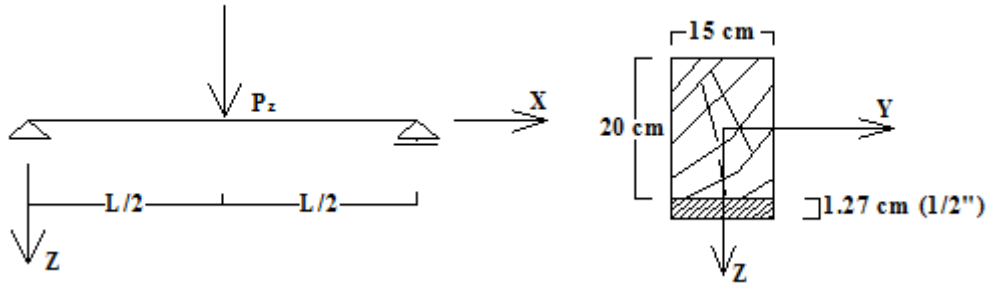
DATOS: $\gamma = 20 \text{ kN/m}^3$ $\gamma_{agua} = 10 \text{ KN/m}^3$ $\sigma_{adm \text{ suelo}} = 2 \text{ kg/cm}^2$ $\sigma_{adm H^\circ} \gg \sigma_{adm \text{ suelo}}$



EJERCICIO N° 9: Para la viga de la figura sometida a una carga P_z , siendo su sección transversal de madera, reforzada con una planchuela de acero, como se indica, se pide determinar la carga P_{max} que cumpla la condición de resistencia. Trazar diagramas σ y ϵ de la sección analizada.

DATOS: $\sigma_{acero} \leq 140 \text{ Mpa}$, $E_a = 2,1 \times 10^5 \text{ MPa}$
 $\sigma_{madera} \leq 10 \text{ Mpa}$, $E_m = 1,05 \times 10^4 \text{ MPa}$
 $L = 4,00 \text{ m}$

05.05.01	TP N° 05: Solicitación por Flexión en Régimen Elástico – SF	0	2018	2°	Todos	Pág.: 5
TP N°	CARPETA – SUB-CARPETA - DENOMINACION	REV.	AÑO	CUATRIM.	CURSOS	de: 11



EJERCICIO N° 10: Calcular la carga por m² que soporta una losa de hormigón armado, con una armadura de 5 ϕ 10 mm c/m, considerando que el hormigón no trabaja a la tracción. Trazar los diagramas de σ y ϵ de la sección analizada.

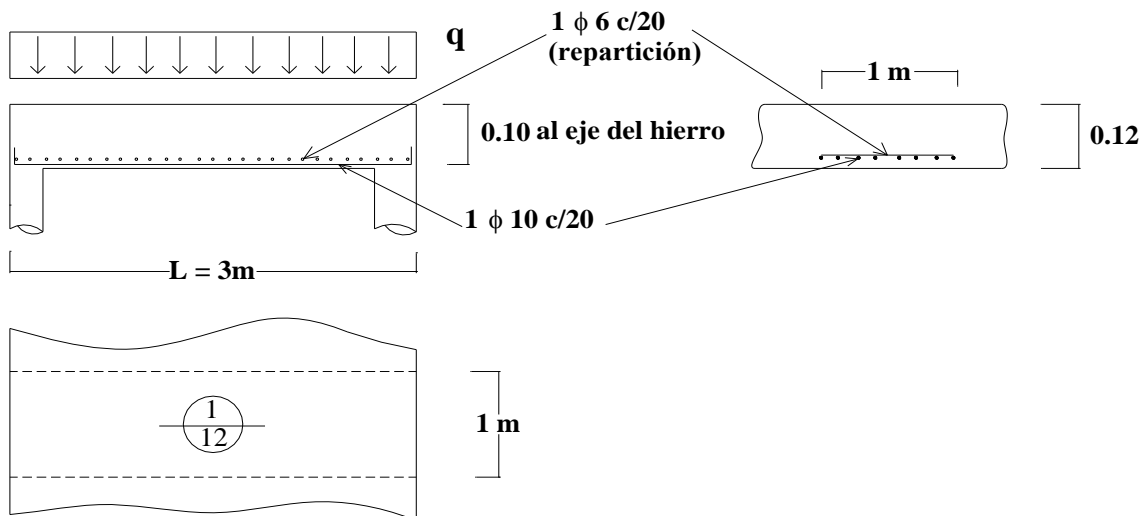
DATOS:

$$\sigma_{adm\ b} \leq 94 \text{ kg/cm}^2 \text{ (H}^\circ\text{)},$$

$$E_b = 0,25 \times 106 \text{ kg/cm}^2$$

$$\sigma_{adm\ a} \leq 2400 \text{ kg/cm}^2 \text{ (ADN 420)},$$

$$E_a = 2,1 \times 106 \text{ kg/cm}^2$$



05.05.01	TP N° 05: Solicitación por Flexión en Régimen Elástico – SF	0	2018	2°	Todos	Pág.: 6
TP N°	CARPETA – SUB-CARPETA - DENOMINACION	REV.	AÑO	CUATRIM.	CURSOS	de: 11



EJERCICIO N° 11: La figura N° 11 esquematiza un edificio, el cual se encuentra solicitado a su peso propio y a acciones del viento según las direcciones "Y" y "Z", que actúan simultáneamente. Se pide:

- 11.01. – Determinar las solicitaciones actuantes en la sección del empotramiento, no considerando esfuerzos de corte ni torsiones. Clasificar la sollicitación;
- 11.02 - Determinar la posición del centro de presiones, de la línea de fuerzas y del eje neutro. Indicar si el centro de presiones se ubica dentro o fuera del núcleo central, y realizar un esquema donde se lo indique;
- 11.03 – Calcular y trazar los diagramas de tensiones individuales y totales, indicando los valores característicos;
- 11.04 – Calcular los coeficientes de seguridad frente al volcamiento para cada dirección "Y" y "Z", respecto de las líneas "1" y "2" respectivamente.

EJERCICIO N° 11 - FIGURA N° 11:

The diagram shows a stepped building with a total height H_1 and a top section height H_2 . The base width is A and the top width is B . The building is divided into two sections by lines labeled 1 and 2. A coordinate system with axes X , Y , and Z is shown at the base.

DATOS GEOMÉTRICOS:

$H_1 =$	64,00 m	21 Pisos
$H_2 =$	45,00 m	15 Pisos
$A =$	25,00 m	
$B =$	45,00 m	

DATOS DE LAS ACCIONES:

DL = 10,0 kN/(m².piso)
(Peso superficial por piso del edificio)

ACCIÓN DEL VIENTO:

x	W _Y	W _Z
[m]	[kN/m ²]	[kN/m ²]
0 - 64	0,80	-1,20
64 - 109	1,00	-1,50

NOTAS:

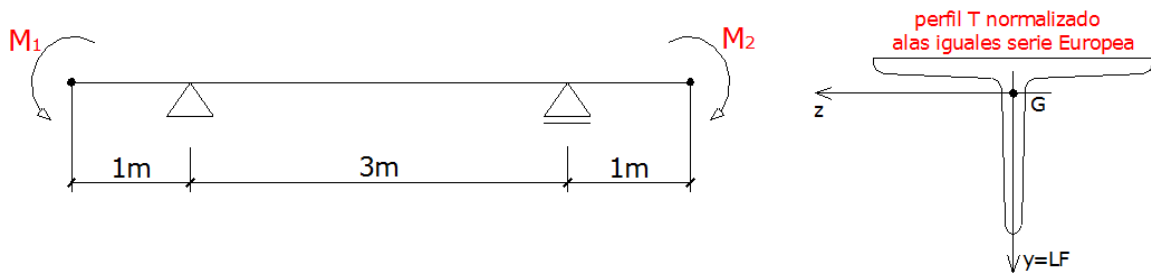
- 1) - Las acciones del viento "W" en cada dirección deberán ser consideradas actuando simultáneamente. W_y actúan en la dirección positiva, mientras que W_z en la negativa.
- 2) - El edificio deberá considerarse empotrado en su base.

A small graph showing a linear relationship between stress σ (vertical axis) and strain ϵ (horizontal axis), representing the elastic regime.



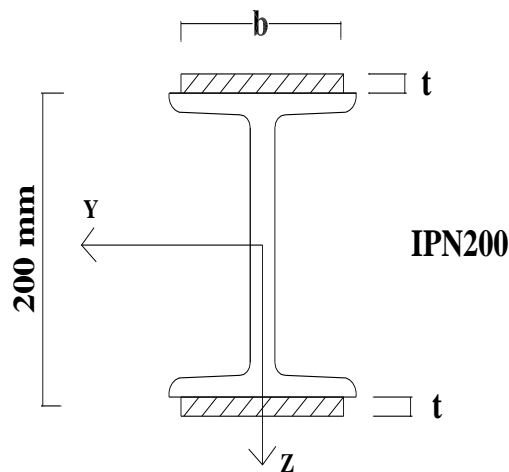
EJERCICIO N° 12: Dimensionar la sección más comprometida de la estructura propuesta adoptando un perfil T normalizado. Trazar los diagramas de características. Trazar el diagrama de tensiones.

DATOS: $M_1 = 500 \text{ daN.m}$ $M_2 = 600 \text{ daN.m}$ $\sigma_{adm} = 1400 \text{ daN/cm}^2$



EJERCICIO N° 13: Una viga de sección I se encuentra sometida a un momento flexor M_y . Calcular las platabandas que deben colocarse simétricamente arriba y abajo del perfil para las condiciones de resistencia que se indican.

DATOS: $\sigma_{adm} \leq 1400 \text{ daN/cm}^2$ $M = 38 \text{ kNm}$
 $b = \text{ancho de platabanda} = (\text{ancho de ala del perfil} - 20 \text{ mm}) = 70 \text{ mm}$



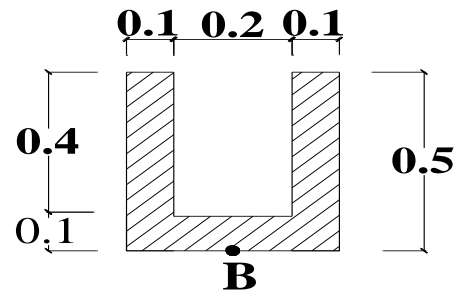
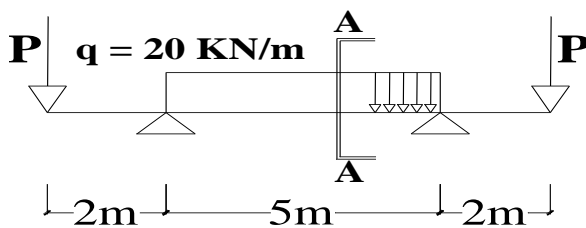
05.05.01	TP N° 05: Solicitación por Flexión en Régimen Elástico – SF	0	2018	2°	Todos	Pág.: 8
TP N°	CARPETA – SUB-CARPETA - DENOMINACION	REV.	AÑO	CUATRIM.	CURSOS	de: 11



ESTABILIDAD II "A" – 64.02 (EIIA-64.02) y ESTABILIDAD II – 84.03 (EII-84.03)

EJERCICIO N° 14: Determinar los valores máximos de la fuerza P que satisfacen, para el esquema de la figura, las condiciones de resistencia indicadas en todos los puntos de las secciones normales al eje de la barra.- Se solicita que se indiquen para las secciones que se analicen los diagramas de tensiones normales.- Representar en una circunferencia de Mohr, el estado de deformación que se genera en el punto B de la sección sobre uno de los apoyos.

DATOS: $|\sigma_{x+}| \leq 3 \text{ MPa}$, $|\sigma_{x-}| \leq 15 \text{ MPa}$, $E = 200.000 \text{ MPa}$, $\mu = 0.1$



Seccion A-A

05.05.01	TP N° 05: Solicitación por Flexión en Régimen Elástico – SF	0	2018	2°	Todos	Pág.: 9
TP N°	CARPETA – SUB-CARPETA - DENOMINACION	REV.	AÑO	CUATRIM.	CURSOS	de: 11

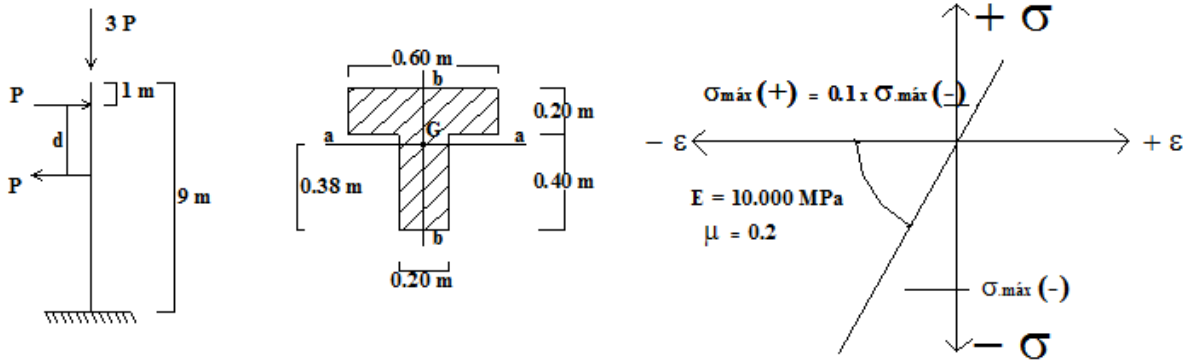


ESTABILIDAD II "A" – 64.02 (EIIA-64.02) y ESTABILIDAD II – 84.03 (EII-84.03)

EJERCICIO N° 15: Para la estructura que se esquematiza a continuación, se pide:

- Trazar los diagramas de características.
- Orientar la sección transversal de forma que se logre el máximo valor de P (pasando por G) asegurando las condiciones de resistencia establecidas. Indicar claramente mediante ejes la orientación elegida.
- Para la sección en estudio trazar los diagramas de σ_x , indicando L.F., L.N., Y C.P.
- Determinar el núcleo central de la figura.

DATOS: $d = 2 \text{ m}$ $\sigma_{\max(-)} = 10 \text{ MPa}$ $J_{aa} = 5.79 \times 10^{-3} \text{ m}^4$ $J_{bb} = 3.87 \times 10^{-3} \text{ m}^4$

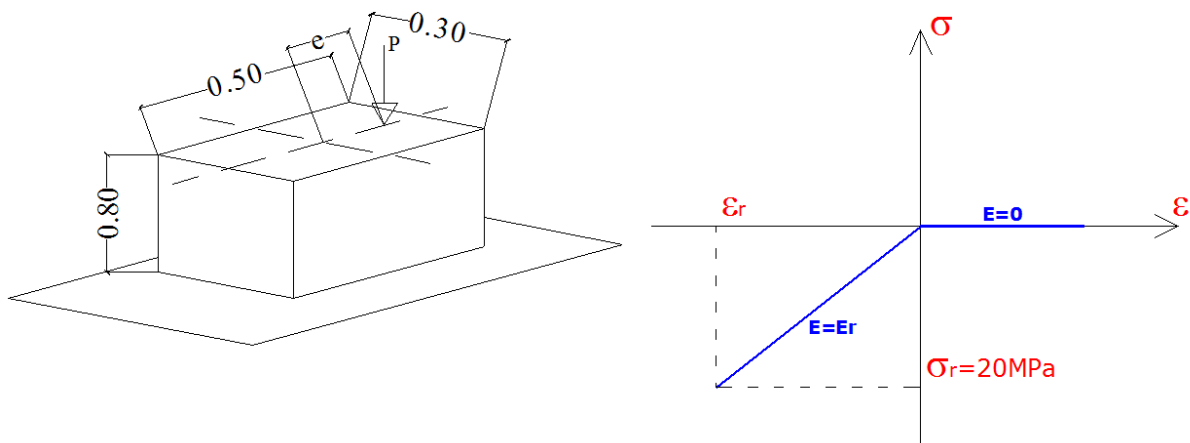


EJERCICIO N° 16: Determinar la máxima carga P que puede aplicarse en la estructura cuyo modelo se indica en la figura.

NOTA IMPORTANTE: Resolver este ejercicio con teoría de flexión para 1 material y con 2 módulos diferentes. ($E_{\text{compr}} = E_r$; $E_{\text{tracc}} = 0$).

- Despreciando el peso propio.
- Ídem pero sin despreciar el peso propio del bloque con $\gamma = 14 \text{ kN/m}^3$.
- ¿Qué seguridad al vuelco se tiene para ambos casos?.

DATOS: $e = 0.15 \text{ m}$

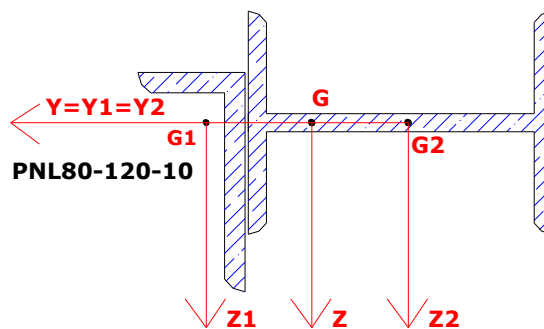


05.05.01	TP N° 05: Sollicitación por Flexión en Régimen Elástico – SF	0	2018	2°	Todos	Pág.: 10
TP N°	CARPETA – SUB-CARPETA - DENOMINACION	REV.	AÑO	CUATRIM.	CURSOS	de: 11



EJERCICIO N° 17: Si a la sección del empotramiento encontrada en el punto a) del ejercicio N° 7 se le agrega un perfil normal L-80-120-10, se pide hallar los nuevos diagramas de tensiones normales σ_x , parciales y total, la ubicación del eje neutro E.N., del centro de presión C.P. y el trazado del núcleo central N.C. de la figura compuesta.

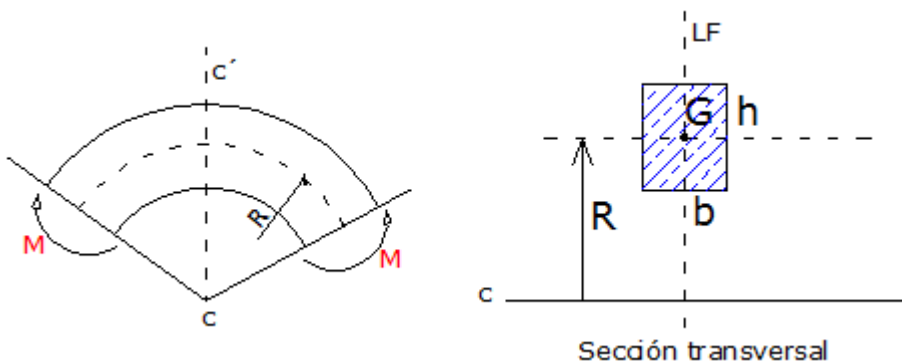
Nota: el PNI puede tener ala menor que el L. P_x conserva su posición inicial. (a 1m del eje X pasante por G2, inicialmente G).



EJERCICIO N° 18: Para el esquema indicado se pide:

- Determinar las tensiones en una sección rectangular con las dimensiones indicadas y un radio de curvatura determinado, solicitada por un momento flector M . La línea de fuerzas coincide con uno de los ejes de simetría de la sección transversal. Graficar σ_y y σ_x .
- ¿Cuánto debe valer R para que el error sea \leq al 5% con teoría de barras rectas?
- ¿Cuál es el máximo valor de N (de tracción) que puede adicionarse en la sección cc' si $\sigma_{adm} = 1,6 \text{ t/cm}^2$?
- Trazar diagramas σ_y y σ_x de la sección analizada.

DATOS: $b = 14 \text{ cm}$ $h = 20 \text{ cm}$ $R = 30 \text{ cm}$
 $M = 1000 \text{ t.cm}$



EJERCICIO N° 19: Para un par de ejes baricéntricos perpendiculares y, z de una sección, que no sean principales de inercia, determinar la expresión general para barras, de las tensiones normales en flexión pura.

05.05.01	TP N° 05: Solicitación por Flexión en Régimen Elástico – SF	0	2018	2°	Todos	Pág.: 11
TP N°	CARPETA – SUB-CARPETA - DENOMINACION	REV.	AÑO	CUATRIM.	CURSOS	de: 11