



**TRABAJO PRACTICO N° 00:**  
**“REPASO DE ESTABILIDAD I – Re EI”**

**EJERCICIOS OBLIGATORIOS:**

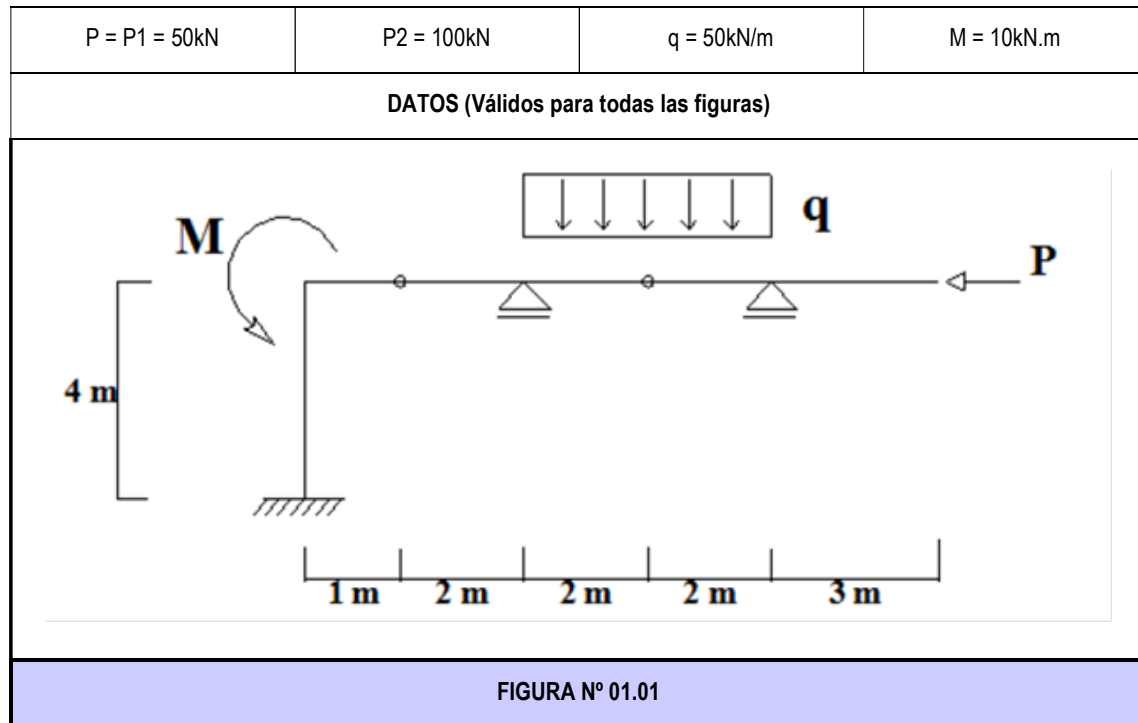
- Ejercicio N°1: figura 1.01 y 1.02
- Ejercicio N°2: figura 2.02, 2.04 y 2.06

**EJERCICIO N° 01:** Para las estructuras de las siguientes figuras se pide:

01.01 - Determinar el grado de hiperestaticidad y si es cinemáticamente invariable;

01.02 - Trazar los diagramas de características.

**NOTA:** En todos los diagramas se deberán indicar los valores característicos, las convenciones utilizadas para su trazado, y los signos; de manera de que permita su lectura sobre el propio dibujo sin inconvenientes ni dudosas interpretaciones.



05.00-Re EI	TP N° 00: Repaso de Estabilidad I – Re EI	0	2023	1	Todos	Pág.: 1
TP N°	CARPETA – SUB-CARPETA - DENOMINACION	REV.	AÑO	CUATRIM.	CURSOS	de: 4

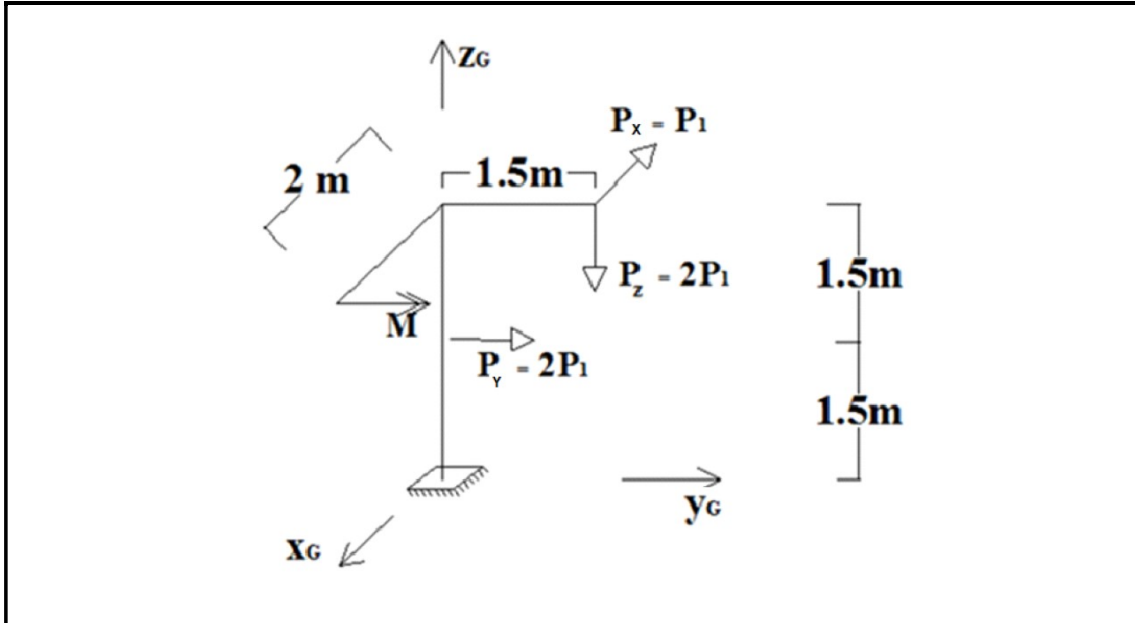


FIGURA N° 01.02

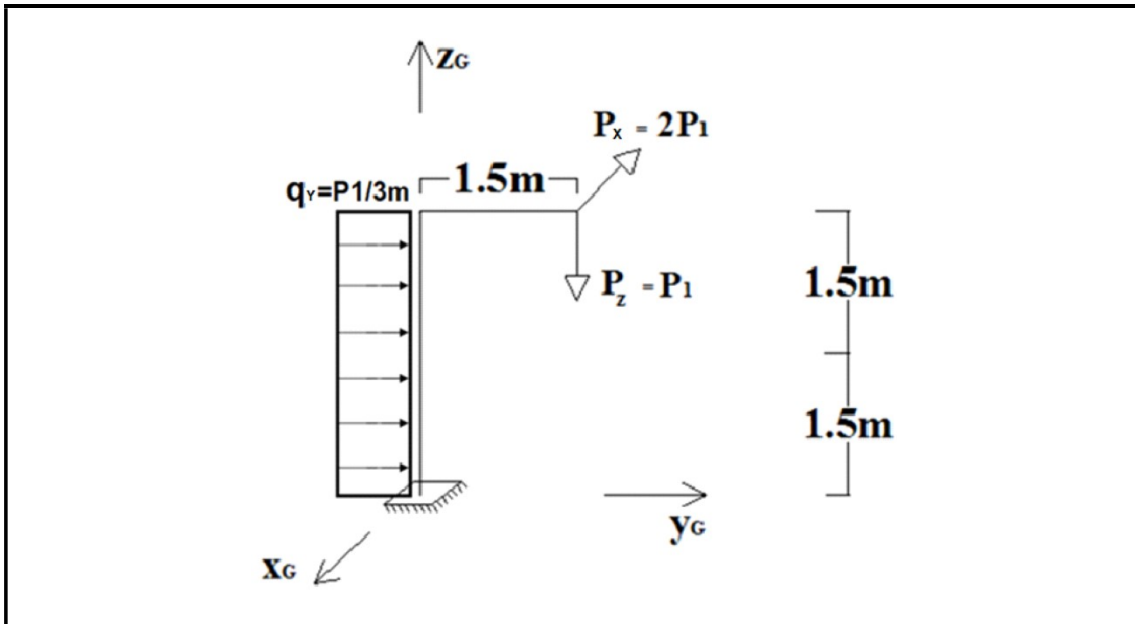
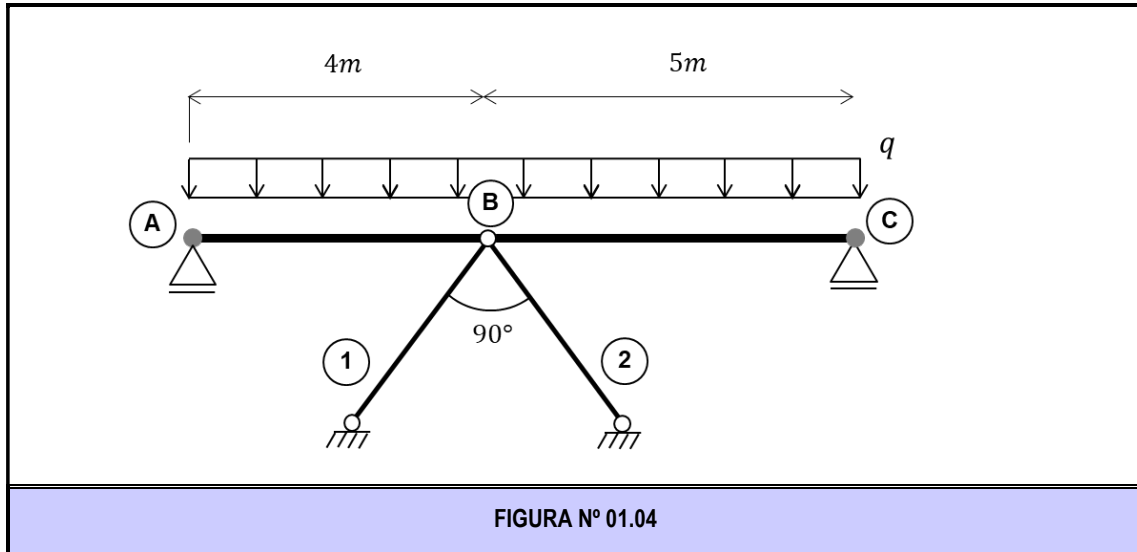


FIGURA N° 01.03

As

05.00-Re EI	TP N° 00: Repaso de Estabilidad I – Re EI	0	2023	1	Todos	Pág.: 2
TP N°	CARPETA – SUB-CARPETA - DENOMINACION	REV.	AÑO	CUATRIM.	CURSOS	de: 4



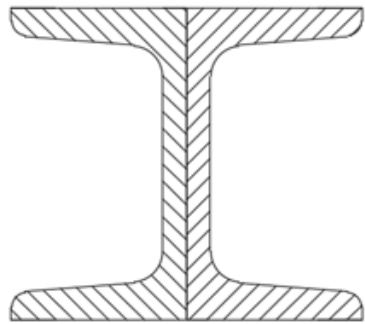
**EJERCICIO N° 02:** Para los perfiles compuestos indicados en las distintas figuras, se pide:

- 02.01 - Determinar la ubicación del baricentro;
- 02.02 - Determinar los momentos de inercia baricéntricos de la sección compuesta,  $I_x$  e  $I_y$ ;
- 02.03 - Determinar y ubicar los momentos principales de inercia baricéntricos, y representarlos en una figura;
- 02.04 - Determinar los momentos estáticos  $S_x$  y  $S_y$  de cada elemento o perfil componente de la sección compuesta respecto de los ejes principales de inercia baricéntricos.

**NOTA:** El eje "X" deberá considerarse horizontal y con semi-eje positivo hacia la derecha; mientras que el eje "Y" será vertical con semi-eje positivo hacia arriba.

<b>FIGURA N° 02.01</b>	<b>FIGURA N° 02.02</b>

05.00-Re EI	TP N° 00: Repaso de Estabilidad I – Re EI	0	2023	1	Todos	Pág.: 3
TP N°	CARPETA – SUB-CARPETA - DENOMINACION	REV.	AÑO	CUATRIM.	CURSOS	de: 4



2 UPN 80

FIGURA N° 02.03

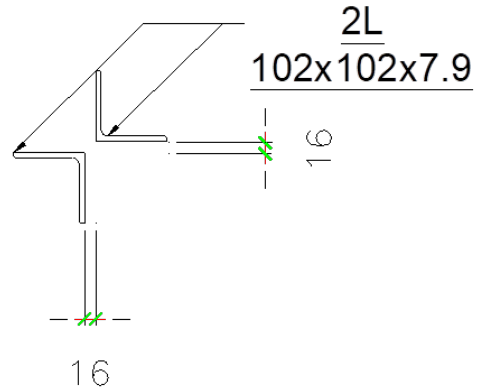



FIGURA N° 02.04



2 W 8X18

FIGURA N° 02.05

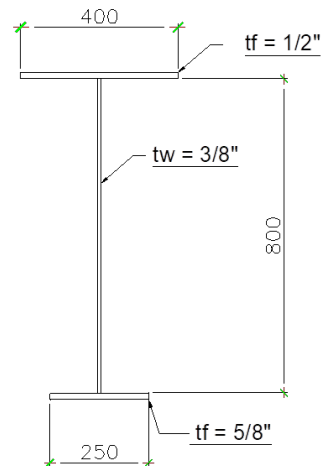


FIGURA N° 02.06

05.00-Re EI	TP N° 00: Repaso de Estabilidad I – Re EI	0	2023	1	Todos	Pág.: 4
TP N°	CARPETA – SUB-CARPETA - DENOMINACION	REV.	AÑO	CUATRIM.	CURSOS	de: 4